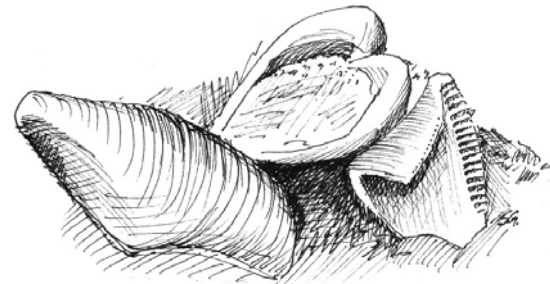
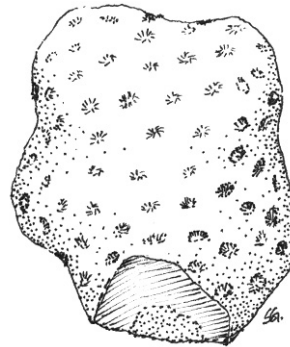

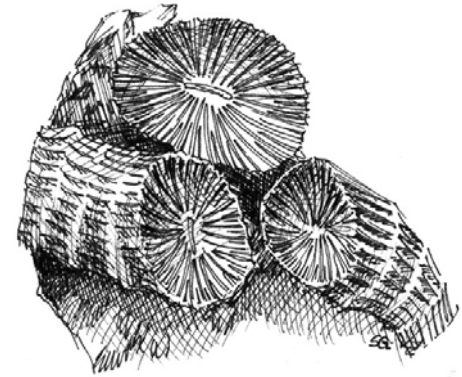



Ficha 3 – Fósseis de ambiente.

Ambiente Marinho

Nalgumas locais podes encontrar uma série de fósseis de animais invertebrados marinhos, como por exemplo diversos tipos de corais, bivalves, e pequenos gastrópodes (búzios).

- 1- Descreve o meio ambiente de que são originários estes fósseis em relação ao tipo de água, temperatura, profundidade e transparência.
- 2- Por te permitirem chegares a conclusões sobre o meio ambiente em que estes seres existiam no Mesozóico podes denominar estes fósseis como **fósseis de ambiente** ou fósseis...



Ambiente Terrestre

O ramo da paleontologia com maior responsabilidade pelo conhecimento do meio ambiente terrestre é a **paleobotânica**, ou a ciência que estuda as plantas fósseis.

Este estudo faz-se essencialmente pela análise dos esporos, células reprodutoras de algumas plantas, que, vistos ao microscópio, devido a estes serem fósseis de pequena dimensão, nos permitem saber o tipo de vegetação existente.

